

## 編 者 的 話

数学课外读物对于帮助学生学好数学，扩大他们的数学知识领域，是很有好处的。近年来，越来越多的中学学生和教师，都迫切希望出版更多的适合中学生阅读的通俗数学读物。我们约请一些数学工作者，编了这套“数学小丛书”，陆续分册出版，来适应这个要求。

这套书打算介绍一些课外的数学知识，以扩大学生的知识领域，加深对数学基础知识的掌握，引导学生独立思考，理论联系实际。

这是我们的初步想法和尝试。热切地希望数学工作者和读者对我们的工作提出宝贵的意见和建议，更希望数学工作者为中学生写出更多更好的数学课外读物。

北京市数学会

1962年4月

## 目 次

一	刘徽割圆术.....	3
二	抛物线在坐标轴上所盖的面积.....	5
三	球的体积.....	8
四	正弦曲线和坐标轴之间的面积.....	10
五	不同的分割法.....	13
六	自然对数.....	19
七	面积原理.....	27
八	祖暅原理.....	31
九	面积的近似计算.....	34
一〇	体积的近似计算.....	38
一一	結束語.....	43
附录	$1 + \frac{1}{2^2} + \frac{1}{3^2} + \dots + \frac{1}{n^2} + \dots = \frac{\pi^2}{6}$ 的証明.....	45

## 一 刘徽割圆术

在华罗庚教授为这套小丛书所写的《从祖冲之的圆周率谈起》一书中指出，一千四百年以前，祖冲之就已经知道了：

(i) 圆周率  $\pi$  是在 3.1415926 和 3.1415927 之间；

(ii) 用  $\frac{22}{7}$  作为  $\pi$  的约率，用  $\frac{355}{113}$  作为  $\pi$  的密率。

书中还指出：“这些结果是刘徽割圆术之后的重要发展。刘徽从圆内接正六边形起算，令边数一倍一倍地增加，即 12, 24, 48, 96, …, 1536, …, 因而逐个算出六边形，十二边形，二十四边形，……的面积，这些数值逐步地逼近圆周率。刘徽方法的特点，是得出一批一个大于一个的数值，这样来一步一步地逼近圆周率。这方法是可以无限精密地逼近圆周率的，但每一次都比圆周率小。”这段话精炼地说明了刘徽割圆术的本质。

刘徽，是我国古代的一个数学家，是魏末晋初时人，他在数学上的重大贡献是将我国最古的数学著作之一《九章算术》详细整理（公元 263 年），从此之后，这本书才有了定本。他在注《九章算术》中求圆周率是用圆内接六边形起算，用他自己的原话来说是：“割之弥细，所失弥少，割之又割，以至于不可割，则与圆周合体而无所失矣。”这个方法是他的创造，我们叫它做刘徽割圆术。他算到正 192 边形，这时候  $\pi$  的近似值是 3.141024。他的思想后来得到祖冲之父子的发挥，从而使我国古代数学放出了异彩。

把刘徽的割圆术用数学语言写出来,就是:有一个半径是1的圆 $O$ ,作内接正六边形 $ABCDEF$ (图1).正六边形的面积是 $\triangle ABO$ 的面积

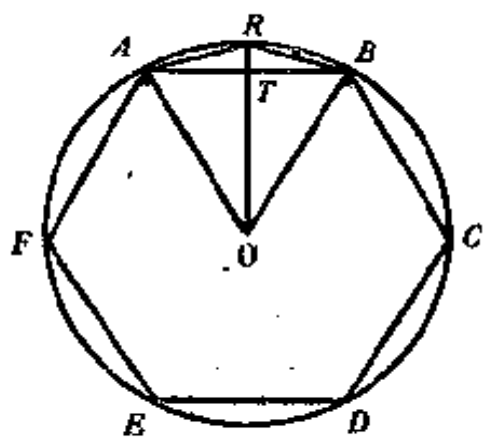


图1.

积是 $\triangle ABO$ 的面积

$$AB=OA=1, OT=\frac{\sqrt{3}}{2},$$

所以六边形的面积是

$$6 \times \frac{1}{2} \times AB \times OT \\ = 6 \times \frac{1}{2} \times 1 \times \frac{\sqrt{3}}{2} = \frac{3\sqrt{3}}{2}.$$

再作内接正十二边形 $ARB\cdots$ ,于是四边形 $ARBO$ 的面积是

$$\frac{1}{2} \times OR \times AB = \frac{1}{2} \times 1 \times 1 = \frac{1}{2},$$

所以十二边形的面积是

$$6 \times \frac{1}{2} = 3.$$

同样可以算出二十四边形,四十八边形, $\cdots$ 的面积.

或许有人认为:刘徽的这种想法没有什么了不起.这种看法是不对的.我们无论如何不能低估刘徽的想法,因为它孕育了一个极其重要的思想.圆的面积是未知的,要求的;但是正多边形的面积是可求的,已知的.因之,刘徽想法的可贵,第一在于:怎样用已知的、可求的来逼近未知的、要求的.刘徽想法的可贵,第二在于:他把圆看做边数无穷的正多边形,而边数有限的正多边形的面积是已知的,可求的.也就是说,他用有限来逼近无穷.

这种想法,一直到近代数学中还在起着极其重要的作用,而且我们相信,它将永久起着极其重要的作用.何况刘徽在

一千七百年以前就用这种想法来解具体的数学问题,这有多么了不起呀!在这本小册子中,我们将自始至终贯穿着应用刘徽的思想,来处理一些面积和体积的问题。

## 二 抛物线在坐标轴上所盖的面积

在中学数学里,我们遇到的面积往往只是直线图形和圆的面积。现在我们要对一些不属于上面说的范围的图形来寻求面积。先从简单的说起。

我们知道,

$$y = x^2$$

表示一根抛物线(图2)。在  $OX$  轴上取一点  $C$ , 设  $OC$  的长是  $a$ 。从  $C$  作垂直于  $OX$  轴的直线, 交抛物线于  $A$ 。我们来求  $OAC$  的面积。结果不是一下看得出来的, 但是我们可以应用刘徽割圆术的思想, 去找一个和它逼近的图形, 而这个图形的面积是可以算得出来的。如图3, 我们把  $OC$   $n$  等分, 分点是

$$(O=)M_0, M_1, M_2, \dots, M_{k-1}, M_k, \dots, M_n(=C).$$

于是相邻二点的距离是  $\frac{a}{n}$ 。分别从这些分点  $M_0, M_1, \dots$  作垂直于  $OX$  轴的直线, 交抛物线于  $N_0, N_1, \dots$ ; 从  $N_{k-1}$  作平行于  $OX$  轴的直线, 交  $M_k N_k$  于  $P_k$ ;  $\dots$  于是我们得到一个和

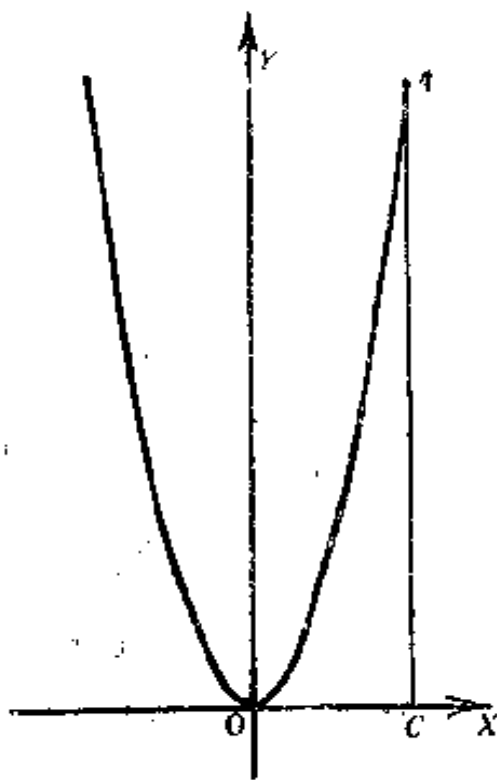


图2.

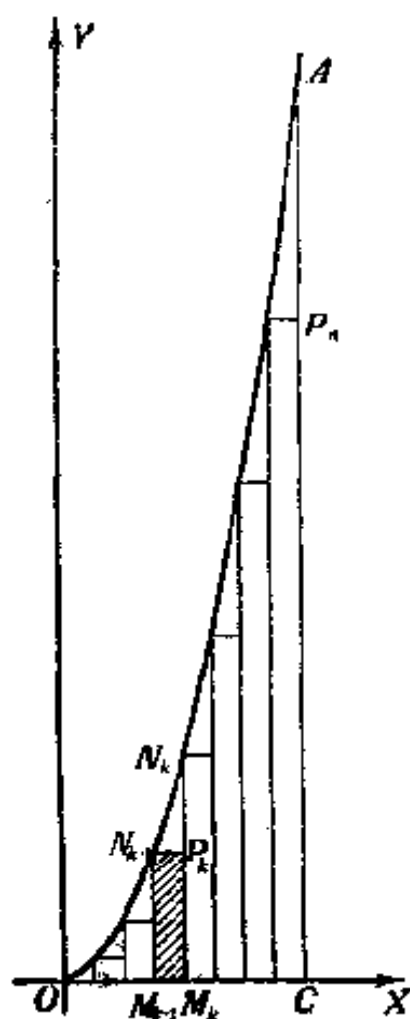


图 3.

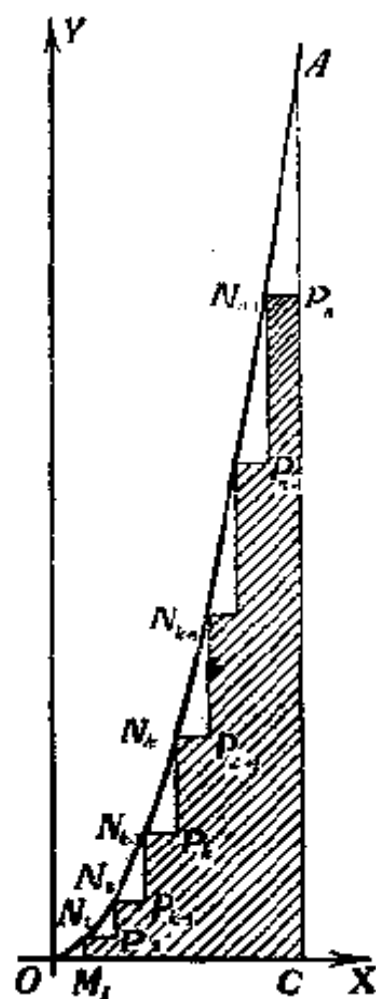


图 4.

$OAC$  相近似的图形, 如图4, 这个图形由直线  $OC$ ,  $P_n C$  和折线

$OM_1 N_1 P_2 N_2 \cdots P_{k-1} N_{k-1} P_k N_k P_{k+1} N_{k+1} \cdots P_{n-1} N_{n-1} P_n$

所组成. 这个图形的面积是可以算得出来的, 因为它是由很多块矩形拼凑起来的. 由于

$$y = x^2,$$

所以  $M_{k-1} N_{k-1} = \left( \frac{(k-1)a}{n} \right)^2$ ,

因此矩形  $M_{k-1} N_{k-1} P_k M_k$  (见图 3) 的面积是

$$\frac{a}{n} \left( \frac{(k-1)a}{n} \right)^2,$$

所以整个近似图形的面积是

$$\begin{aligned} S_n &= \frac{a}{n} \left[ \left( \frac{a}{n} \right)^2 + \left( \frac{2a}{n} \right)^2 + \cdots + \left( \frac{(n-1)a}{n} \right)^2 \right] \\ &= \frac{a^3}{n^3} [1^2 + 2^2 + \cdots + (n-1)^2]. \end{aligned}$$

这里由  $OO$ ,  $P_nC$  和折线所组成的图形所起的作用就相当于刘徽割圆术中的正多边形。

利用杨辉三角中的公式, 我们有①

$$1^2 + 2^2 + \cdots + (n-1)^2 = \frac{1}{6} n(n-1)(2n-1).$$

于是作为  $OAC$  的面积  $S$  的近似值的  $S_n$  等于

$$\frac{a^3}{6} \left( 1 - \frac{1}{n} \right) \left( 2 - \frac{1}{n} \right),$$

显然  $S_n$  是小于  $S$  的, 而且  $n$  越大,  $S_n$  和  $S$  的差越小。如图 5,  $M_{k-1}N_{k-1}P_kM_k$  表示求  $S_n$  的一种分割所得的其中的一个矩形。

把这种分割分得更细, 例如在  $M_{k-1}M_k$  的中間取一点  $M'_{k-1}$ 。从  $M'_{k-1}$  作  $OX$  轴的垂直线, 交抛物线于  $N'_{k-1}$ 。从  $N'_{k-1}$  作平行于  $OX$  轴的直线, 交  $M_kP_k$  于  $P'_k$ 。又设  $M'_{k-1}N'_{k-1}$  交  $N_{k-1}P_k$  于  $P'_{k-1}$ 。于是在新的分割中, 矩形  $M_{k-1}N_{k-1}P_kM_k$  的面积应该用矩形  $M_{k-1}N_{k-1}P'_{k-1}M'_{k-1}$  和矩形  $M'_{k-1}N'_{k-1}P'_kM_k$  的面积的和来代替。显然  $M_{k-1}N_{k-1}P'_{k-1}M'_{k-1}$  和  $M'_{k-1}N'_{k-1}P'_kM_k$  的面积的和比

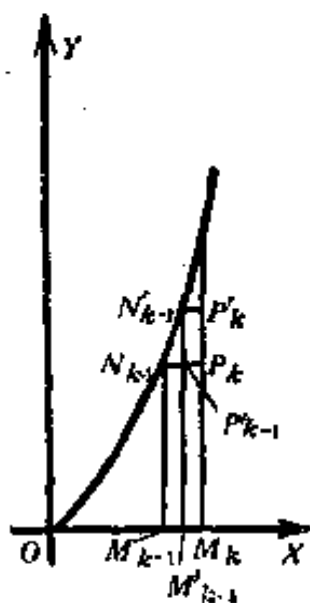


图 5.

① 参看这一套丛书中华罗庚:《从杨辉三角谈起》, 第四节例 2。

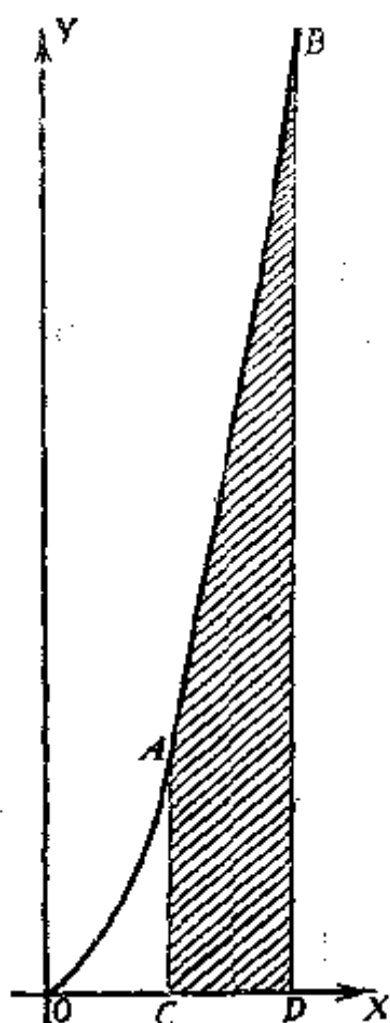


图 6.

$M_{k-1}N_{k-1}P_kM_k$  的大,也就是新的分割所得的近似面积比原来分割的更接近于  $S$ . 当  $n$  趋于无穷大时,  $S_n$  趋于  $\frac{a^3}{3}$ . 因之,得到  $OAC$  的面积  $S$  等于  $\frac{a^3}{3}$ .

不难看出,上面的做法和刘徽割圆术本质上是一样的,只是一个割的是圆,一个割的是抛物线在  $OX$  轴上所盖的面积. 这种割的方法也是:“割之弥细,所失弥少,割之又割,以至于不可割,则与抛物线合体而无所失矣.”

从上面说的结果立刻知道,在  $OX$  轴上任取一段  $CD$ , 这里

$OC = a$ ,  $OD = b$ , 而  $a < b$  (图 6), 从  $C, D$  分别作垂直于  $OX$  轴的直线, 交抛物线于  $A, B$ , 那末  $ABDO$  的面积是  $\frac{1}{3}(b^3 - a^3)$ .

### 三 球的体积

利用跟上面相同的道理,我们还可以求得一些物体的体积. 现在来计算球的体积. 设球  $O$  的半径是  $R$  (图 7). 我们来考虑半球, 得到结果后, 加倍就是球的体积. 用一系列平行于半球的底的平面把半球切成等高的  $n$  片, 使每片的厚度是  $\frac{R}{n}$ . 每一片的精确的体积还是不便于计算的, 但当片切得很薄时, 可以把这一片用一个圆柱体来近似它. 对于第  $k$  片来



講，設它的上底的半徑是  $r_{k-1}$ ，  
 下底的半徑是  $r_k$ ，作一個跟它  
 近似的圓柱體，高是  $\frac{R}{n}$ ，底半徑  
 是  $r_k$ 。於是這樣一個半球就可  
 以用一個由  $n$  個薄的圓柱體所  
 組成的物體來替代了。這個物  
 體的每一片的體積是

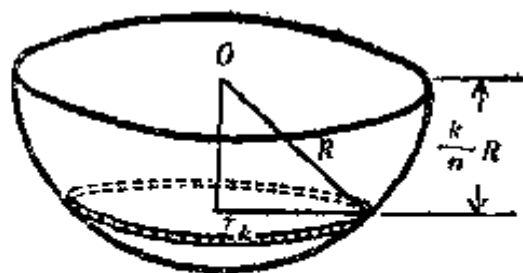


圖 7.

$$\pi r_k^2 \frac{R}{n}.$$

但是  $r_k^2 = R^2 - \frac{k^2}{n^2} R^2$ ，所以這個近似於半球的物體的體積是

$$\begin{aligned} S_n &= \frac{\pi R^3}{n} \left[ \left(1 - \frac{1^2}{n^2}\right) + \left(1 - \frac{2^2}{n^2}\right) + \cdots + \left(1 - \frac{(n-1)^2}{n^2}\right) + \left(1 - \frac{n^2}{n^2}\right) \right] \\ &= \pi R^3 - \frac{\pi R^3}{n^3} (1^2 + 2^2 + \cdots + (n-1)^2 + n^2). \end{aligned}$$

而  $1^2 + 2^2 + \cdots + (n-1)^2 + n^2 = \frac{1}{6} n(n+1)(2n+1)$ ，

所以  $S_n = \pi R^3 \left[ 1 - \frac{1}{6} \left(1 + \frac{1}{n}\right) \left(2 + \frac{1}{n}\right) \right]$ ，

從直觀上可以看出，這種分割的方法，也是“割之彌細，所失彌少，割之又割，以至於不可割，則與球合體而無所失矣”。所以當  $n$  趨於無窮大時， $S_n$  就趨於半球的體積，而從  $S_n$  的表達式可以看出，這是

$$\frac{2\pi R^3}{3}.$$

所以全球的體積是  $\frac{4\pi R^3}{3}$ 。

說起球的體積還應當提到，在劉徽以前已經知道大約是

$$\frac{9}{2} R^3,$$

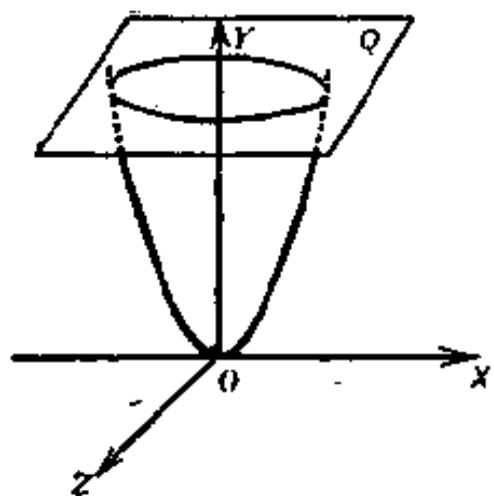


图 8.

但刘徽认为这个数值“偶与实相近，而丸犹伤多耳”，就是说，这个数值只和实际相近，但还嫌太多。之后祖冲之的儿子祖暅就在刘徽工作的基础上，精确地求得了球的体积，他的方法叫做“祖暅开立圆术”，不在这里详细说了。

读者可以利用上面说的方法，求得圆锥体的体积是  $\frac{\pi r^2 h}{3}$ ，这

里  $r$  是圆锥体底的半径， $h$  是圆锥体的高。如果把第二节中的抛物线用  $OY$  轴做轴旋转，得到旋转抛物面，再作一个垂直于  $OY$  轴的平面  $Q$ ，如图 8。我们可以应用上面的方法，求出  $Q$  和旋转抛物面之间所包的体积。

#### 四 正弦曲线和坐标轴之间的面积

并不是所有求面积或体积的问题都像上二节所作的那末简单。事实上，事情往往要复杂得多。这里我们举一个比上二节复杂一些的例。

我们知道  $y = \sin x$  所描绘的曲线叫做正弦曲线，如图 9。现在求  $x=0$  到  $x=\pi$  之间正弦曲线和  $OX$  轴之间所包的面积。也跟以前一样，把  $OX$  轴上从 0 到  $\pi$  的一段  $n$  等分，分点是



图 9.

$$0, \frac{\pi}{n}, \frac{2\pi}{n}, \dots, \frac{n\pi}{n}.$$

跟以前一样，从这些分点作垂直于  $OX$  轴的直线，把图形分成  $n$  条，每一条可以用矩形来近似它，于是得到第  $k$  块的近似面积是

$$\frac{\pi}{n} \sin \frac{(k-1)\pi}{n}.$$

由这  $n$  块矩形拼起来的图形跟正弦曲线和  $OX$  轴之间所包的图形相逼近，而这图形的面积是

$$S_n = \frac{\pi}{n} \left( \sin \frac{\pi}{n} + \sin \frac{2\pi}{n} + \dots + \sin \frac{(n-1)\pi}{n} \right).$$

我们来计算上面的和式。由于

$$2 \sin A \sin B = \cos(A-B) - \cos(A+B),$$

于是

$$\begin{aligned} 2S_n \sin \frac{\pi}{2n} &= \frac{\pi}{n} \left( 2 \sin \frac{\pi}{n} \sin \frac{\pi}{2n} + 2 \sin \frac{2\pi}{n} \sin \frac{\pi}{2n} + \dots \right. \\ &\quad \left. + 2 \sin \frac{(n-1)\pi}{n} \sin \frac{\pi}{2n} \right) \\ &= \frac{\pi}{n} \left[ \left( \cos \frac{\pi}{2n} - \cos \frac{3\pi}{2n} \right) + \left( \cos \frac{3\pi}{2n} - \cos \frac{5\pi}{2n} \right) \right. \\ &\quad \left. + \dots + \left( \cos \frac{(2n-3)\pi}{2n} - \cos \frac{(2n-1)\pi}{2n} \right) \right] \\ &= \frac{\pi}{n} \left( \cos \frac{\pi}{2n} - \cos \frac{(2n-1)\pi}{2n} \right). \end{aligned}$$

但  $\cos A - \cos B = 2 \sin \frac{A+B}{2} \sin \frac{B-A}{2},$

所以  $2S_n \sin \frac{\pi}{2n} = \frac{2\pi}{n} \sin \frac{n\pi}{2n} \sin \frac{(n-1)\pi}{2n} = \frac{2\pi}{n} \sin \frac{(n-1)\pi}{2n}.$

因而 
$$S_n = \frac{\frac{\pi}{n} \sin \frac{(n-1)\pi}{2n}}{\sin \frac{\pi}{2n}}.$$

即使到了这一步，结果还不是显然的，尽管我们知道  $S_n$  是小

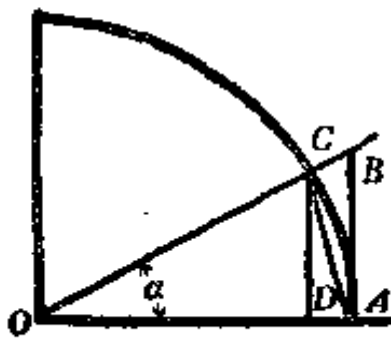


图 10.

于  $S$  的, 而且当  $n$  增大时跟  $S$  越来越接近.

为了把  $S$  计算出来, 我们先来给出一些准备知识.

我们取半径是 1 的圆, 取角  $\alpha$  适合  $0 < \alpha < \frac{\pi}{2}$ . 如图 10, 可以看出:  $\triangle OAB$  的面积大于扇形  $OAC$  的面积, 而扇形  $OAC$  的面积大于  $\triangle OAC$  的面积. 但  $\triangle OAB$  的面积是  $\frac{1}{2} \operatorname{tg} \alpha$ , 扇形  $OAC$  的面积是  $\frac{1}{2} \alpha$ ,  $\triangle OAC$  的面积是  $\frac{1}{2} \sin \alpha$ ,

因之, 
$$\frac{1}{2} \operatorname{tg} \alpha > \frac{1}{2} \alpha > \frac{1}{2} \sin \alpha,$$

这就是 
$$\frac{1}{\sin \alpha} > \frac{1}{\alpha} > \frac{1}{\operatorname{tg} \alpha},$$

或 
$$1 > \frac{\sin \alpha}{\alpha} > \cos \alpha.$$

当  $\alpha$  趋于零时, 上面这个不等式的右边趋于 1, 所以当  $\alpha$  趋于零时,  $\frac{\sin \alpha}{\alpha}$  趋于 1.

从上面这个结果, 我们就知道, 当  $n$  无限增大时,

$$\frac{\sin \frac{\pi}{2n}}{\frac{\pi}{2n}}$$

是趋于 1 的.

有了这个作准备, 立刻可以看出, 由于

$$S_n = \frac{\frac{\pi}{n} \sin \frac{(n-1)\pi}{2n}}{\sin \frac{\pi}{2n}} = \frac{2 \cdot \frac{\pi}{2n} \sin \frac{(n-1)\pi}{2n}}{\sin \frac{\pi}{2n}},$$

所以当  $n$  趋于无穷大时,  $S_n$  趋于 2, 而这就是我们要求的面积.

## 五 不同的分割法

上面我們都把  $OX$  軸上的距离等分, 然后来进行計算. 但是有的时候, 应用等分来計算反而很困难. 通过以下的例子, 可以更清楚地了解这一点.

我們提出一个比第二节中所提出的更一般的问题, 来研究曲线  $y=x^m$  盖在  $OX$  軸上的面积, 这里  $m$  是不等于  $-1$  的实数, 如图 11.

如果也像上几节那样等分, 設  $OD$  的长是  $b$ ,  $OC$  的长是  $a$ , 并且  $a < b$ , 我們把  $CD$  分成  $n$  等分, 每一段的距离是  $\frac{b-a}{n}$ . 如同第二节中的方法作  $n$  块矩形, 拼凑起

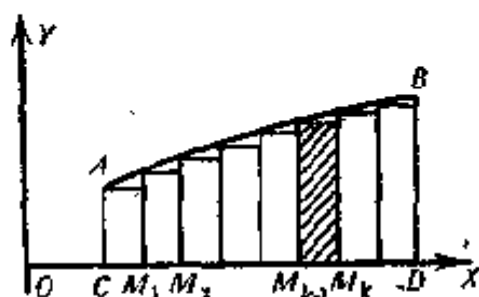


图 11.

来作为  $ABDC$  的近似图形. 在求这近似图形的面积的过程中, 要遇到求以下的和

$$1^m + 2^m + \cdots + n^m,$$

而这个值当  $m$  是正整数时, 例如  $m=3, 4, \dots$ , 我們还可以利用楊輝三角中的一些公式求出来, 但已經是很吃力的事了; 至于  $m$  不是整数时, 要写出这个和的具体表达式是十分困难的. 因之, 我們必須另想别的办法. 事实上, 我們在开头二节中已經看到, 刘徽割圓时, 是用正多边形来作为圓的近似图形的, 而在求抛物綫在  $OX$  軸上所盖的面积时, 就用很多矩形拼凑起来的折綫图形作为近似图形了. 因之, 不同的分割方法应该是被允許的. 我們可以不一定把  $OX$  軸上的距离等分然

后来进行计算。

我們記  $q = \sqrt[n]{\frac{b}{a}}$ ，显然，由于  $b > a$ ，所以  $q > 1$ 。但是当  $n$  趋于无穷时， $q$  是趋于 1 的，这是因为

$$\log q = \frac{\log b - \log a}{n},$$

而  $\frac{\log b - \log a}{n}$  当  $n$  趋于无穷时，显然是趋于零的，所以  $q$  趋于 1。

現在把  $OD$  分成  $n$  段，分点是

$$(O =) M_0, M_1, M_2, \dots, M_{n-1}, M_n (= D).$$

这些分点是这么取的，讓

$$OM_1 = aq, OM_2 = aq^2, \dots, OM_n = aq^n.$$

于是

$$M_1O = a(q-1),$$

$$M_2M_1 = aq(q-1),$$

$$M_3M_2 = aq^2(q-1),$$

.....

$$M_kM_{k-1} = aq^{k-1}(q-1),$$

.....

$$M_nM_{n-1} = aq^{n-1}(q-1).$$

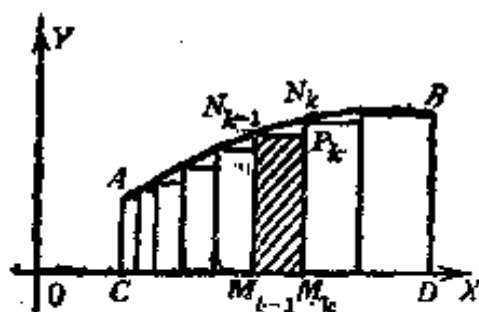


图 12.

这样一来， $OD$  之間并不是等分了，而是越靠近  $O$  的分得越小，越靠近  $D$  的分得越大(图 12)。但是当分点越来越多时，就是越分越細时，每一段的长都趋于零。

照这样分割以后，矩形

$M_{k-1} N_{k-1} P_k M_k$  的面积是

$$aq^{k-1}(q-1)(aq^{k-1})^m = (q-1)(aq^{k-1})^{m+1}.$$

把这些矩形拼凑起来得到的图形成为  $ABDC$  的近似图形, 这个近似图形的面积是

$$\begin{aligned} S_n &= (q-1)(aq^{1-1})^{m+1} + (q-1)(aq^{2-1})^{m+1} \\ &\quad + \cdots + (q-1)(aq^{n-1})^{m+1} \\ &= (q-1)a^{m+1}[1 + q^{m+1} + \cdots + (q^{m+1})^{n-1}] \\ &= (q-1)a^{m+1} \frac{q^{(m+1)n} - 1}{q^{m+1} - 1}. \end{aligned}$$

但是  $q^n = \frac{b}{a}$ , 所以

$$S_n = a^{m+1} \frac{\left(\frac{b}{a}\right)^{m+1} - 1}{\frac{q^{m+1} - 1}{q-1}} = \frac{b^{m+1} - a^{m+1}}{\frac{q^{m+1} - 1}{q-1}}.$$

显然  $S_n$  是小于  $ABDC$  的面积  $S$  的, 而且可以看出, 这个近似图形也是“割之弥细, 所失弥少, 割之又割, 以至于不可割, 则与曲线合体而无所失矣”。

为了求得  $S$  的值, 我们必须考虑当  $n$  趋于无穷时的  $S_n$  的值。这就要求当  $n$  趋于无穷时  $\frac{q^{m+1} - 1}{q-1}$  的值。前面我们已经说过, 当  $n$  趋于无穷时,  $q$  就趋于 1, 于是我们要求的是

$$\lim_{q \rightarrow 1} \frac{q^{m+1} - 1}{q-1}$$

的值, 但  $m \neq -1$ 。

为了计算这个值, 我们设

$$q-1 = t,$$

即

$$q = 1 + t,$$

由于  $q > 1$ , 所以  $t > 0$  成立。当  $q$  趋于 1 时,  $t$  就趋于零。因

而,我們要求的值是

$$\lim_{t \rightarrow 0} \frac{(1+t)^{m+1} - 1}{t}.$$

为了要求得上面这个数值,我們分几步来进行.

(1) 先証: 如果  $m \geq 0$ , 那末

$$(1+t)^{m+1} \geq 1 + (m+1)t.$$

設  $m$  是有理数, 于是  $\frac{1}{m+1}$  可以写成  $\frac{r}{s}$ , 这里  $r, s$  是正整数. 由于  $m \geq 0$ ,  $\frac{1}{m+1} \leq 1$ , 所以  $r \leq s$ . 因之,  $[1 + (m+1)t]^{\frac{1}{m+1}}$  可以写成

$$\sqrt[s]{\underbrace{[1 + (m+1)t] \cdots [1 + (m+1)t]}_{r \uparrow} \cdot \underbrace{1 \cdot 1 \cdots 1}_{s-r \uparrow}}.$$

由于几何平均不大于算术平均, 所以上式不大于

$$\frac{r[1 + (m+1)t] + (s-r)}{s} = 1 + \frac{r}{s}(m+1)t = 1 + t,$$

于是得到

$$[1 + (m+1)t]^{\frac{1}{m+1}} \leq 1 + t.$$

而这就是  $(1+t)^{m+1} \geq 1 + (m+1)t$ .

因之, 当  $m$  是有理数时, 我們証明了(1). 当  $m$  是无理数时, 我們可以找到一串有理数  $m_1, m_2, \dots, m_n, \dots$ , 用  $m$  做它們的极限, 而且每一个  $m_n \geq 0$ , 于是由刚才所証的, 对于每一个  $m_n$ ,

$$(1+t)^{m_n+1} \geq 1 + (m_n+1)t$$

都成立, 在上式中, 讓  $m_n \rightarrow m$ , 就得到(1).

(2) 再証: 如果  $m \leq -2, 1 \geq t \geq 0$ , 那末

$$(1+t)^{m+1} \geq 1 + (m+1)t.$$

由于  $m \leq -2$ , 所以  $m+1 \leq -1$ . 先設  $m$  是有理数, 于



是  $\frac{-1}{m+1}$  可以写成  $\frac{r}{s}$ , 而  $r \leq s$ .

若  $1 + (m+1)t \leq 0$ , 那末就没有什么可证明的了, 因为  $(1+t)^{m+1} > 0$  永远成立. 若  $1 + (m+1)t > 0$ , 于是如同(1)中所证的那样,

$$[1 + (m+1)t]^{\frac{r}{s}} \leq \frac{r[1 + (m+1)t] + (s-r)}{s} = 1 + \frac{r}{s}(m+1)t = 1 - t.$$

但是  $1 - t \leq \frac{1}{1+t}$

显然成立, 因之,

$$[1 + (m+1)t]^{\frac{r}{s}} \leq \frac{1}{1+t}.$$

而这就是

$$1 + (m+1)t \leq \left(\frac{1}{1+t}\right)^{\frac{s}{r}} = \left(\frac{1}{1+t}\right)^{-\frac{s}{r}(m+1)} = (1+t)^{m+1},$$

这也就是(2). 因之, 当  $m$  是有理数时证明了(2)成立. 至于  $m$  是无理数时, 也可以同(1)那样证明(2)成立.

(3)再证: 如果  $m \geq 0$  或  $m \leq -2$ , 那末当  $\frac{1}{|m+1|} > t \geq 0$  时,

$$\frac{1}{1 - (m+1)t} \geq (1+t)^{m+1} \geq 1 + (m+1)t$$

成立.

(3)的右边的不等式就是(1)和(2), 现在来证左边的不等式.

设  $m \geq 0$ , 那末  $-m \leq 0$ , 于是  $-m - 2 \leq -2$ , 记  $m' = -m - 2$ , 于是由(2), 当  $1 \geq t \geq 0$  时, 我们有

$$(1+t)^{m'+1} \geq 1 + (m'+1)t,$$

这就是

$$(1+t)^{-m-1} \geq 1 - (m+1)t,$$

也就是  $\frac{1}{(1+t)^{m+1}} \geq 1 - (m+1)t$ .

由于  $t < \frac{1}{m+1}$ , 所以  $1 - (m+1)t > 0$ , 因之, 就得到:

$$\frac{1}{1 - (m+1)t} \geq (1+t)^{m+1},$$

这就是(3)的左边的不等式. 同样可以证明, 当  $m \leq -2$  时, (3)的左边的不等式也成立.

(4) 当  $m \geq 0$ , 或  $m \leq -2$ , 和  $\frac{1}{m+1} > t \geq 0$  时, 从(3)式中各减 1, 再除以  $t$ , 就得到:

$$\frac{1}{t} \left( \frac{1}{1 - (m+1)t} - 1 \right) \geq \frac{(1+t)^{m+1} - 1}{t} \geq m+1,$$

而这就是

$$\frac{m+1}{1 - (m+1)t} \geq \frac{(1+t)^{m+1} - 1}{t} \geq m+1,$$

由于

$$\lim_{t \rightarrow 0} \frac{m+1}{1 - (m+1)t} = m+1,$$

所以我们在上式取  $t$  趋于零时的极限, 左右二边都是  $m+1$ , 因之得到

$$\lim_{t \rightarrow 0} \frac{(1+t)^{m+1} - 1}{t} = m+1.$$

(5) 当  $-2 \leq m \leq 0$  时, 由于  $m+2 \geq 0$ , 所以由(3)得到, 当  $\frac{1}{m+3} > t \geq 0$  时,

$$\frac{1}{1 - (m+3)t} \geq (1+t)^{m+3} \geq 1 + (m+3)t$$

成立, 上式各除以  $(1+t)^2$ , 就得到

$$\frac{1}{[1 - (m+3)t](1+t)^2} \geq (1+t)^{m+1} \geq \frac{1 + (m+3)t}{(1+t)^2},$$

于是在上式中各减 1, 再除以  $t$ , 得到

$$\frac{1}{t} \left( \frac{1}{[1-(m+3)t](1+t)^2} - 1 \right) \geq \frac{(1+t)^{m+1}-1}{t}$$

$$\geq \frac{1}{t} \left( \frac{1+(m+3)t}{(1+t)^2} - 1 \right).$$

这就是

$$\frac{m+1+(2m+5)t+(m+3)t^2}{[1-(m+3)t](1+t)^2} \geq \frac{(1+t)^{m+1}-1}{t} \geq \frac{m+1-t}{(1+t)^2},$$

由于上式左右二边当  $t$  趋于零时的极限都是  $m+1$ , 立刻得到, 当  $-2 \leq m \leq 0$  时,

$$\lim_{t \rightarrow 0} \frac{(1+t)^{m+1}-1}{t} = m+1.$$

总结起来, 我们得到,

$$\lim_{t \rightarrow 0} \frac{(1+t)^{m+1}-1}{t} = m+1$$

永远成立.

因之, 最后我们得到, 当  $m \neq -1$ ,  $n$  趋于无穷大时,  $S_n$  趋于  $ABDC$  的面积  $S$ , 它等于

$$\frac{b^{m+1}-a^{m+1}}{m+1}.$$

作为上面说的结果的推论, 当  $m < -1$  时, 我们把  $D$  点沿  $OX$  轴推向无穷 (图 13), 那末这一块伸向无穷的 (由阴影所示的) 图形的面积应该是存在的, 并且等于

$$-\frac{a^{m+1}}{m+1}.$$

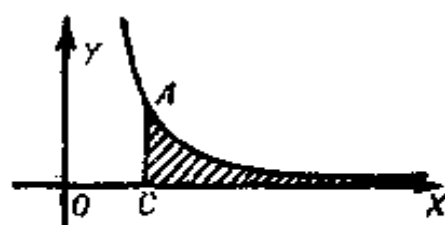


图 13.

## 六 自然对数

在上一节中,  $m = -1$  的情形是除外了的, 因为当  $m = -1$  时, 即使使用上面说的分割方法, 仍旧不能得到什么结果. 我

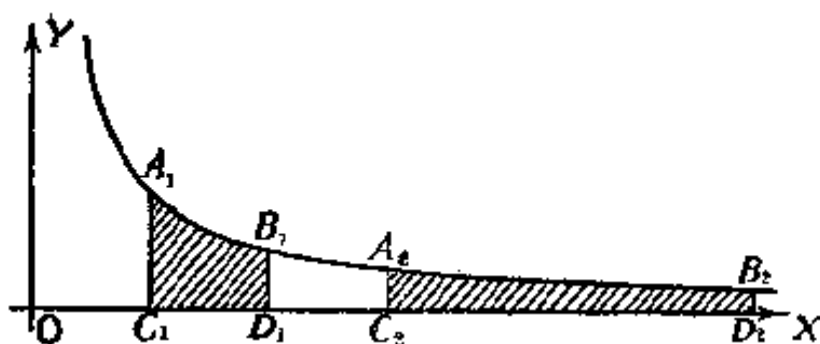


图 14.

們現在來仔細地研究一下當  $m = -1$  時的情形。

在這時候曲線是  $y = \frac{1}{x}$ ，圖象如圖 14。

在  $OX$  軸上取二段線段  $C_1D_1$  和  $C_2D_2$ ，設  $OC_1$  的長是  $a_1$ ， $OD_1$  的長是  $b_1$ ， $OC_2$  的長是  $a_2$ ， $OD_2$  的長是  $b_2$ ，我們可以看到：如果  $\frac{b_1}{a_1} = \frac{b_2}{a_2}$ ，那末  $A_1B_1D_1C_1$  的面積等於  $A_2B_2D_2C_2$  的面積。

事實上，我們把  $C_1D_1$   $n$  等分，跟以往一樣，作一個由很多矩形拼湊起來的圖形作為  $A_1B_1D_1C_1$  的近似圖形，這個近似圖形的面積是

$$\begin{aligned} & \frac{b_1 - a_1}{n} \left[ \frac{1}{a_1 + \frac{b_1 - a_1}{n}} + \frac{1}{a_1 + 2\frac{b_1 - a_1}{n}} + \dots + \frac{1}{a_1 + n\frac{b_1 - a_1}{n}} \right] \\ & = \left( \frac{b_1}{a_1} - 1 \right) \left[ \frac{1}{n-1 + \frac{b_1}{a_1}} + \frac{1}{n-2 + 2\frac{b_1}{a_1}} + \dots + \frac{1}{n\frac{b_1}{a_1}} \right]. \end{aligned}$$

同樣把  $C_2D_2$   $n$  等分，跟以往一樣，作一個由很多個矩形拼湊起來的圖形作為  $A_2B_2D_2C_2$  的近似圖形，顯然這個近似圖形的面積是

$$\left( \frac{b_2}{a_2} - 1 \right) \left[ \frac{1}{n-1 + \frac{b_2}{a_2}} + \frac{1}{n-2 + 2\frac{b_2}{a_2}} + \dots + \frac{1}{n\frac{b_2}{a_2}} \right].$$

如果  $\frac{b_1}{a_1} = \frac{b_2}{a_2}$ ，那末顯然這二個近似圖形的面積是完全相同的。因之，作為它們所逼近的圖形  $A_1B_1D_1C_1$  和  $A_2B_2D_2C_2$  的面

积当然也是相等的了。

我們把  $F(z)$  定义做从  $x=1$  到  $x=z$  由  $y=\frac{1}{x}$  所盖的在  $OX$  軸上的面积。如图15, 由上面的結果, 我們可以証明下列重要的事实: 对于任意正数  $z_1$  和  $z_2$  (就是  $z_1 > 0, z_2 > 0$ ),

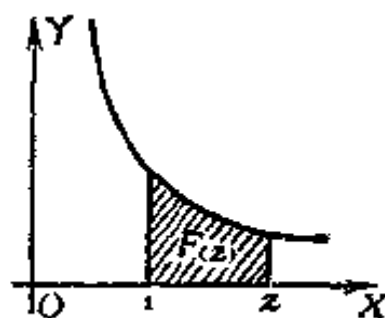


图 15.

总有 
$$F(z_1 z_2) = F(z_1) + F(z_2). \quad (I)$$

証明分四步来进行。

(1) 若  $z_1 > 1, z_2 > 1$ , 那末, 由于

$$\frac{z_1 z_2}{z_2} = \frac{z_1}{1},$$

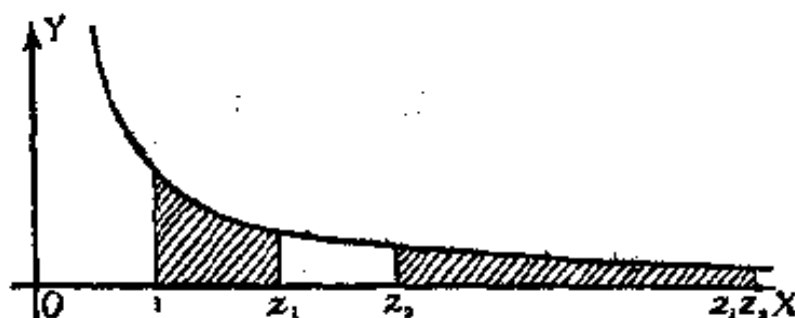


图 16.

可以得到: 从  $x=1$  到  $x=z_1$  的面积等于从  $x=z_2$  到  $x=z_1 z_2$  的面积(图16)。而从  $x=z_2$  到  $x=z_1 z_2$  的面积是

$$F(z_1 z_2) - F(z_2).$$

所以

$$F(z_1) = F(z_1 z_2) - F(z_2),$$

就是

$$F(z_1 z_2) = F(z_1) + F(z_2).$$

(2) 若  $z_2 = \frac{1}{z_1}, z_1 > 1$ , 那末由于

$$\frac{z_1}{1} = \frac{1}{\frac{1}{z_1}},$$

所以从  $x = z_1$  到  $x = 1$  的面积等于从  $x = 1$  到  $x = \frac{1}{z_1}$  的面积，因之，得到

$$F\left(\frac{1}{z_1}\right) = -F(z_1).$$

(3) 若  $z_1 < 1$ ,  $z_2 < 1$ , 那末  $\frac{1}{z_1} > 1$ ,  $\frac{1}{z_2} > 1$ ,  $\frac{1}{z_1 z_2} > 1$ , 而由 (2), 我們有

$$F\left(\frac{1}{z_1}\right) = -F(z_1), F\left(\frac{1}{z_2}\right) = -F(z_2), F\left(\frac{1}{z_1 z_2}\right) = -F(z_1 z_2).$$

由 (1), 我們有

$$F\left(\frac{1}{z_1}\right) + F\left(\frac{1}{z_2}\right) = F\left(\frac{1}{z_1 z_2}\right),$$

乘以  $-1$  后, 即得

$$F(z_1) + F(z_2) = F(z_1 z_2).$$

(4) 若  $z_1 > 1$ ,  $z_2 < 1$ , 因而  $\frac{1}{z_2} > 1$ , 并且設  $z_1 > \frac{1}{z_2}$ , 那末  $z_1 z_2 > 1$ , 于是由 (1), 我們得到

$$F(z_1 z_2) + F\left(\frac{1}{z_2}\right) = F\left(z_1 z_2 \cdot \frac{1}{z_2}\right) = F(z_1).$$

但上式就是

$$F(z_1 z_2) - F(z_2) = F(z_1).$$

当  $z_1 z_2 < 1$  时的情形也可以同样証明。

到此为止, 我們証明了 (I), 对于任意的  $z_1 > 0$ ,  $z_2 > 0$ , 我們有

$$F(z_1) + F(z_2) = F(z_1 z_2).$$

有了这个結果, 我們进一步来証明: 对于任意实数  $\alpha$ ,  $z > 0$ , 我們有

$$F(z^\alpha) = \alpha F(z). \quad (\text{II})$$

証明分五步来进行。

(1) 由于

$$F(z_1) + F(z_2) = F(z_1 z_2),$$

取  $z_1 = z_2 = z$ , 于是有

$$F(z^2) = 2F(z).$$

繼續应用上面的公式(I), 就有

$$F(z^3) = F(z^2) + F(z) = 2F(z) + F(z) = 3F(z),$$

.....

$$F(z^n) = F(z^{n-1}) + F(z) = (n-1)F(z) + F(z) = nF(z).$$

所以(II)对于  $\alpha$  是正整数时是正确的。

(2) 設  $k$  是負整数,  $k = -n$ , 于是

$$F(z^k) = F\left(\frac{1}{z^n}\right),$$

而由以前証明的, 我們有

$$F\left(\frac{1}{z^n}\right) = -F(z^n) = -nF(z) = kF(z).$$

所以(II)对于  $\alpha$  是整数时都是正确的。

(3) 由于当  $m$  是整数时,

$$F(z_1^m) = mF(z_1)$$

成立, 特別取  $z_1 = z^{\frac{1}{m}}$ , 那末  $z = z_1^m$ , 于是得到

$$F(z) = F(z_1^m) = mF(z_1) = mF\left(z^{\frac{1}{m}}\right),$$

这就是

$$F\left(z^{\frac{1}{m}}\right) = \frac{1}{m}F(z).$$

(4) 若  $m, n$  是整数, 那末由(1), (2), (3), 我們有

$$F\left(z^{\frac{n}{m}}\right) = F\left[\left(z^{\frac{1}{m}}\right)^n\right] = nF\left(z^{\frac{1}{m}}\right) = \frac{n}{m}F(z).$$

所以(II)对于 $\alpha$ 是有理数时都成立。

(5)若 $\alpha$ 是无理数,我們一定能够找到二个有理数列

$$\alpha_1, \alpha_2, \dots, \alpha_n, \dots$$

和

$$\alpha_1', \alpha_2', \dots, \alpha_n', \dots,$$

使得

$$\alpha_n < \alpha < \alpha_n',$$

并且

$$\lim_{n \rightarrow \infty} \alpha_n = \lim_{n \rightarrow \infty} \alpha_n' = \alpha$$

成立。

这样的二个有理数列是一定能找到的,例如,我們取无理数 $\alpha$ 的渐近分数 $\frac{p_n}{q_n}$ ,于是我們知道 $\frac{p_{2n}}{q_{2n}} < \alpha$ ,并且是一个递增数列,而以 $\alpha$ 作为极限, $\frac{p_{2n+1}}{q_{2n+1}} > \alpha$ ,并且是一个递减数列,而以 $\alpha$ 作为极限,我們取 $\alpha_n = \frac{p_{2n}}{q_{2n}}$ ,  $\alpha_n' = \frac{p_{2n+1}}{q_{2n+1}}$ ,就可以了①。

若 $z > 1$ ,那末从 $F(z)$ 的定义立刻得到

$$F(z\alpha_n) < F(z^\alpha) < F(z\alpha_n'),$$

由(4),这就是

$$\alpha_n F(z) < F(z^\alpha) < \alpha_n' F(z),$$

所以

$$\alpha_n < \frac{F(z^\alpha)}{F(z)} < \alpha_n'.$$

二边取极限,就得到  $\frac{F(z^\alpha)}{F(z)} = \alpha$ ,

这就是  $F(z^\alpha) = \alpha F(z)$ 。

同样可以証明 $z \leq 1$ 的情形。

这样就完全証明了(II)。

有了性質(II),我們就可以得出:函数 $F(z)$ 是以某个常

① 关于渐近分数和有理数列的极限,参看这一套丛书中华罗庚:《从祖冲之的圆周率談起》,第一三和一四节。



数  $c$  作底的对数函数。

可以证明如下：由于

$$z = c^{\log_c z},$$

所以  $F(z) = F(c^{\log_c z})$ 。

由(II)，我们知道，这式的右边等于

$$\log_c z \cdot F(c).$$

我们特别选取  $c$ ，使  $F(c) = 1$ ，就是说从  $x=1$  到  $x=c$  的面积是 1，这是一定能办得到的。于是我们有

$$F(z) = \log_c z.$$

以下我们将要说明，这个  $c$  是一个极其重要的常数，并指出求出  $c$  的数值的途径来。

我们来考察图 17。在图 17 中  $AEO$  和  $FBD$  都是垂直于  $OX$  轴的，而  $AF, EB$  是平行于  $OX$  轴的。其中  $OC$  的长是 1， $CD$  的长是  $\frac{1}{n}$ 。于是从图形可以看出，曲线  $AB$  在  $OX$  轴上所盖的面积  $ABDOE$  是

$$\log_c \left(1 + \frac{1}{n}\right),$$

它是小于矩形  $AFDC$  的面积

$$\frac{1}{n} \cdot \frac{1}{1} = \frac{1}{n},$$

而大于矩形  $EBDC$  的面积

$$\frac{1}{n} \cdot \frac{1}{1 + \frac{1}{n}} = \frac{1}{n+1}.$$

所以我们有

$$\frac{1}{n} > \log_c \left(1 + \frac{1}{n}\right) > \frac{1}{n+1}.$$

从左边的不等式，得到

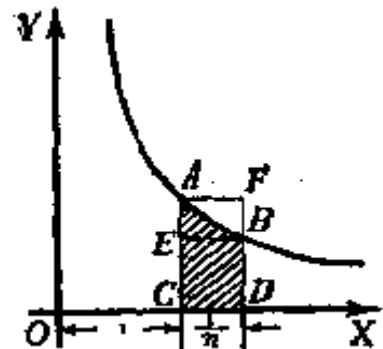


图 17.

$$1 > n \log_c \left(1 + \frac{1}{n}\right) = \log_c \left(1 + \frac{1}{n}\right)^n,$$

而从右边的不等式, 得到

$$(n+1) \log_c \left(1 + \frac{1}{n}\right) = \log_c \left(1 + \frac{1}{n}\right)^{n+1} > 1,$$

而这就是  $\log_c \left(1 + \frac{1}{n}\right)^{n+1} > 1 > \log_c \left(1 + \frac{1}{n}\right)^n$ .

让  $n \rightarrow \infty$ , 我们知道, 可以并不困难地证明<sup>①</sup>:

$$\left(1 + \frac{1}{n}\right)^n$$

是递增数列, 而

$$\left(1 + \frac{1}{n}\right)^{n+1}$$

是递减数列, 并且都以  $e$  作为极限, 就是说

$$\lim_{n \rightarrow \infty} \left(1 + \frac{1}{n}\right)^n = \lim_{n \rightarrow \infty} \left(1 + \frac{1}{n}\right)^{n+1} = e$$

所以我们知道  $c$  就是  $e$ . 大家知道,  $e$  是一个无理数, 并且是超越数, 它等于

$$2.718281828459045 \dots$$

总结起来, 曲线  $y = \frac{1}{x}$  在  $OX$  轴上所盖的面积, 从  $x=1$  到  $x=z$  的是

$$\log_e z.$$

从  $x=a$  到  $x=b$  的是

$$\log_e \frac{b}{a},$$

但  $a > 0, b > 0$ .

我们把  $e$  作底的对数叫自然对数. 在高等数学中所说的对数, 一般都是指自然对数, 自然对数在高等数学中有它的重要性.

<sup>①</sup> 关于  $\left(1 + \frac{1}{n}\right)^n$  和  $\left(1 + \frac{1}{n}\right)^{n+1}$  的极限的证明, 一般数学分析的书里都有.

## 七 面积原理

我們利用以前所获得的結果，繼續应用分割的思想，可以进一步获得很多有趣的結果，这些結果如果用別的方法来研究，有时會感到不是十分容易的。

从第五节的结果，我們知道，当  $m \neq -1$  时， $y = x^m$  所描繪的曲綫，在  $OX$  軸上从  $x = a$  到  $x = b$  所盖的面积是

$$\frac{b^{m+1} - a^{m+1}}{m+1}.$$

(1) 先来考虑  $m > -1$  的情形，由于  $m > -1$ ，所以由函数  $y = x^m$  所描繪的曲綫在  $OX$  軸上从  $x = 0$  到  $x = b$  所盖的面积应该是存在的(見图 18, 所画的是  $-1 < m < 0$  的情形)，并且等于

$$\frac{b^{m+1}}{m+1}.$$

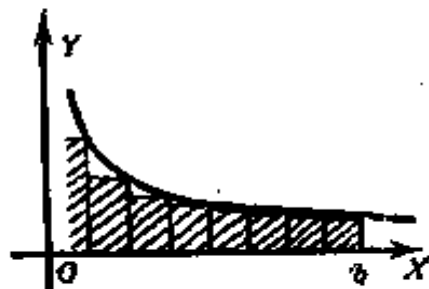


图 18.

从 0 到  $b$  进行  $n$  等分，于是每段的长是  $\frac{b}{n}$ 。跟以前一样，作由  $n$  个矩形拼凑起来的、跟原来图形相近似的图形，这个近似图形的面积是

$$\begin{aligned} S_n &= \frac{b}{n} \left[ \left(\frac{b}{n}\right)^m + \left(\frac{2b}{n}\right)^m + \cdots + \left(\frac{nb}{n}\right)^m \right] \\ &= \frac{b^{m+1}}{n^{m+1}} [1^m + 2^m + \cdots + n^m]. \end{aligned}$$

$S_n$  比原图形的面积  $S$  小(这是指当  $-1 < m \leq 0$  时的情形，当  $m > 0$  的时候， $S_n$  是

$$\frac{b^{m+1}}{n^{m+1}} [1^m + 2^m + \cdots + (n-1)^m],$$

以后討論我們都只对当  $-1 < m \leq 0$  的时候来进行，对于  $m > 0$

的情形,可以完全相仿的获得,不再一一交代)。而且  $n$  越大,就跟  $S$  越接近。由于  $S = \frac{b^{m+1}}{m+1}$ , 所以

$$\lim_{n \rightarrow \infty} \frac{1^m + 2^m + \dots + n^m}{n^{m+1}} = \frac{1}{m+1},$$

这个结果是很有意义的,它告诉我们,当  $n$  很大的时候,

$$1^m + 2^m + \dots + n^m$$

的值跟  $\frac{n^{m+1}}{m+1}$  差不多。

即使  $m$  是正整数的时候,要具体写出

$$1^m + 2^m + \dots + n^m$$

( $m > -1$ ) 的值都不太容易。更不必说当  $m$  不是正整数的情形了。

(2) 再来考虑  $m < -1$  的情形,记  $m = -l$ , 于是  $l > 1$ 。考察图 19。其中  $AB$  表示函数  $y = x^m$  所描绘的曲线,  $OC$  的长是 1,  $OD$  的长是  $n$ , 把  $OD$   $n-1$  等分, 这样每段的长是 1。于是跟以前一样分别作矩形  $CEFG$  和  $GAHG$  等等。这样一来图形  $ABDC$  可以由以下二个图形来近似: 第一个图形是由直

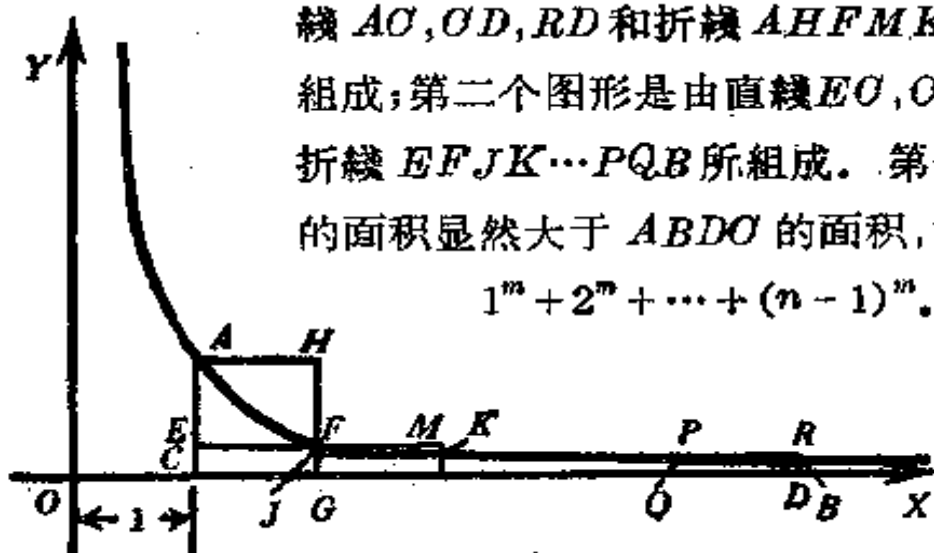


图 19.

线  $AC, OD, RD$  和折线  $AHFMK \dots PR$  所组成; 第二个图形是由直线  $EO, CD, BD$  和折线  $EFJK \dots PQB$  所组成。第一个图形的面积显然大于  $ABDC$  的面积, 并且等于

$$1^m + 2^m + \dots + (n-1)^m.$$

第二个图形的面积显然小于  $ABDC$  的面积,并且等于

$$2^m + 3^m + \cdots + n^m.$$

而由第五节的结果,我们知道,图形  $ABDC$  的面积等于

$$\frac{n^{m+1}-1}{m+1}.$$

于是我们有

$$2^m + \cdots + n^m < \frac{n^{m+1}-1}{m+1} < 1^m + \cdots + (n-1)^m.$$

由于  $m = -l$ ,所以上式就是

$$\frac{1}{2^l} + \cdots + \frac{1}{n^l} < \frac{1 - \frac{1}{n^{l-1}}}{l-1} < \frac{1}{1^l} + \cdots + \frac{1}{(n-1)^l}.$$

这就是

$$\frac{1 - \frac{1}{n^{l-1}}}{l-1} < 1 + \frac{1}{2^l} + \cdots + \frac{1}{(n-1)^l} < 1 + \frac{1 - \frac{1}{n^{l-1}}}{l-1} - \frac{1}{n^l}.$$

让  $n \rightarrow \infty$ ,由于  $l > 1$ ,

$$\lim_{n \rightarrow \infty} \frac{1 - \frac{1}{n^{l-1}}}{l-1} = \frac{1}{l-1},$$

$$\lim_{n \rightarrow \infty} 1 + \frac{1 - \frac{1}{n^{l-1}}}{l-1} - \frac{1}{n^l} = 1 + \frac{1}{l-1} = \frac{l}{l-1},$$

所以得到

$$1 + \frac{1}{2^l} + \cdots + \frac{1}{n^l} + \cdots$$

的值介于  $\frac{1}{l-1}$  和  $\frac{l}{l-1}$  之间.

这个结果也是很有意义的. 因为即使在  $l$  是整数的情况下,要求出

$$1 + \frac{1}{2^l} + \cdots + \frac{1}{n^l} + \cdots$$

的值也是很不容易的事;甚至在最简单的情形  $l=2$  时,要求出这个值来也很费事. 在华罗庚教授所写的《从杨辉三角谈

起»这本书的最后一节中,就指出:求级数

$$1 + \frac{1}{2^2} + \frac{1}{3^2} + \dots$$

的值是并不简单的。他在这本书中建议了一个极好的近似计算方法。

所以我们能够依靠分割的办法,估计出级数

$$1 + \frac{1}{2^i} + \dots + \frac{1}{n^i} + \dots$$

的值在  $\frac{1}{i-1}$  和  $\frac{i}{i-1}$  之间是应该认为很有意义的。为了使读者进一步了解它的意义,我们在附录中,用了一定的篇幅来证明

$$1 + \frac{1}{2^2} + \frac{1}{3^2} + \dots + \frac{1}{n^2} + \dots = \frac{\pi^2}{6}.$$

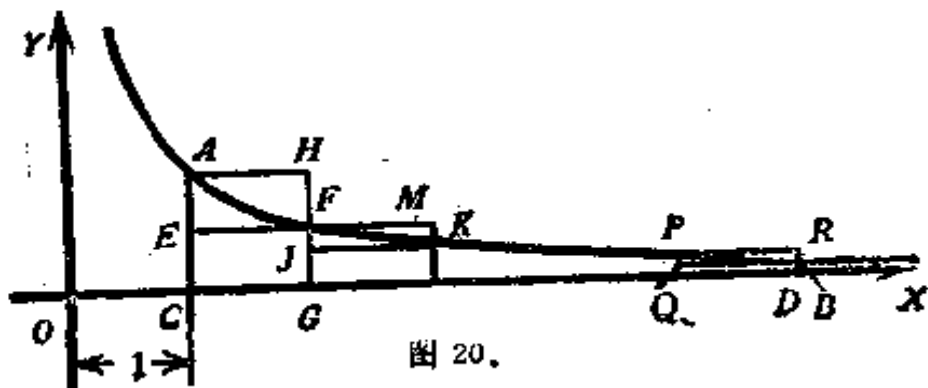
(3)最后我们来考虑  $m = -1$  的情形。我们来考察图 20。也是和  $m < -1$  的情形一样,  $OC$  的长是 1,  $OD$  的长是  $n$ , 把  $CD$   $n-1$  等分,这样每段的长是 1。而由第六节结果知道,  $ABDO$  的面积是  $\log_e n$ 。跟图 19 一样,分别作  $n-1$  个矩形,于是跟  $m < -1$  的情形一样,我们可以有

$$\frac{1}{2} + \frac{1}{3} + \dots + \frac{1}{n} < \log_e n < 1 + \frac{1}{2} + \dots + \frac{1}{n-1}.$$

能

$$\gamma_n = 1 + \frac{1}{2} + \frac{1}{3} + \dots + \frac{1}{n-1} - \log_e n.$$

于是从上式右边不等式,得出  $\gamma_n > 0$ , 从左边不等式,得出



$\gamma_n < 1 - \frac{1}{n}$ , 所以  $\gamma_n$  必須滿足

$$0 < \gamma_n < 1 - \frac{1}{n}.$$

由图 20 可以看出,  $\gamma_n$  是递增的, 并且是有界的, 所以当  $n$  趋于无穷时,  $\gamma_n$  的极限是存在的, 記做  $\gamma$ , 就是

$$\gamma = \lim_{n \rightarrow \infty} \gamma_n.$$

$\gamma$  叫做欧拉(Euler)常数, 它等于

$$0.57721566\dots$$

$\gamma$  这个数也是一个极其重要的常数.

由这些结果, 我們知道, 当  $n$  很大时,

$$1 + \frac{1}{2} + \dots + \frac{1}{n-1}$$

和  $\log_e n + \gamma$  的植差不多.

以上所用的方法, 叫做面积原理, 当然它的最根本的想法还是通过分割, 作出近似图形, 从而导出一系列的結果来.

## 八 祖暅原理

在公元五百年初, 祖冲之的儿子祖暅, 發揮了刘徽割圓的思想, 提出了祖暅原理, 这个原理成为計算面积和体积的有力工具. 原理可以陈述如下:

設两个物体夹于平行平面  $P$  和  $Q$  之間. 若以任意一个平行于  $P$  和  $Q$  的平面  $R$  跟它們相截, 截出来的二块面积总是相等, 那末两物体的体积相等(图21).

我們还是应用分割的思想来証明这个原理. 用  $n-1$  个等距离的平行于  $P$  和  $Q$  的平面, 把物体  $A$  和物体  $B$  分別切成

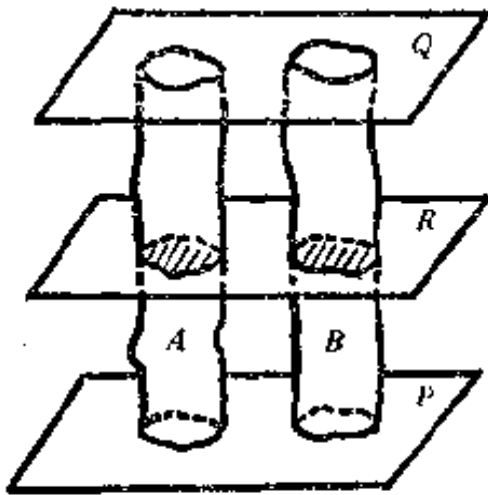


图 21.

等高的  $n$  片, 对于其中的每一片, 我們用柱体来近似它, 这个柱体以每片的高做高, 以二个底中的上底做底. 由于用任意一个平行于  $P$  和  $Q$  的平面跟  $A, B$  相截得出的面积是相同的, 因之, 物体  $A, B$  分别切成  $n$  片之后, 跟物体  $A$  的第  $k$  片相近似的柱体的体积和跟物体  $B$  的第  $k$  片相近似的柱体的

体积是相等的. 这是因为这二个柱体具有相同的高和相等的底面积的緣故. 这样由  $n$  个柱体組成的物体跟物体  $A$  相近似, 而另一个由  $n$  个柱体組成的物体跟物体  $B$  相近似, 而且这种分割的方法, 也是“割之弥細, 所失弥少, 割之又割, 以至于不可割, 則与物体  $A, B$  相合体而无所失矣”. 而当分割的片数趋于无穷, 每片的厚度趋于零时, 这二个近似物体的体积分别趋于物体  $A, B$  的体积, 但是由以前的論証, 这二个近似物体的体积是相等的, 所以物体  $A$  和  $B$  的体积是相等的.

不难把祖暅原理推广, 可以証明: 若二物体用平行的平面截出来的图形的面积总是成一定的比, 那末这二物体的体积的比也等于这一个比值.

对于面积也可以建立类似的定理.

設二个平面图形  $I$  和  $II$  夹在二条平行直綫  $p$  和  $q$  之間, 若以任意一条平行于  $p$  和  $q$  的直綫  $r$  跟它們相截, 截出来的二个綫段的长总是相等, 那末这二个图形的面积相等. 若截



出来的二个线段的长成一定的比  $k$ , 那末图形 I 的面积和 II 的面积之比也等于  $k$ .

以上这些结果的证明请读者自己补出来.

以下我们就利用祖暅原理, 来计算椭圆的面积和旋转椭圆体的体积.

什么叫做椭圆? 椭圆可以定义做压缩了的圆. 考虑一个半径是  $a$  的圆. 设圆心在坐标原点  $O$  上, 把圆上每一点  $M'$  的纵坐标  $KM'$  按照一定的比数  $q (< 1)$  缩短, 得到一点  $M$ , 就是说

$$KM : KM' = q,$$

这样把圆  $AB'A_1B_1$  压缩成另一个图形  $ABA_1B_1$  (图 22). 由于圆的面积是  $\pi a^2$ , 而

$$MM_1 : M'M'_1 = q,$$

所以由祖暅原理, 椭圆  $ABA_1B_1$  的面积是  $q\pi a^2$ . 记  $qa = b$ , 那末  $ABA_1B_1$  的面积是  $\pi ab$ , 读者可以看出  $OB$  的长就是  $b$ , 并且椭圆  $ABA_1B_1$  的方程是

$$\frac{x^2}{a^2} + \frac{y^2}{b^2} = 1.$$

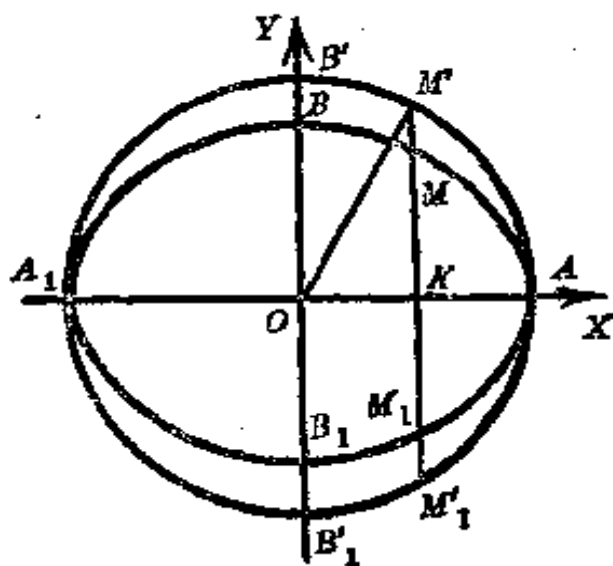


图 22.

这是因为, 设  $M$  点的坐标是  $(x, y)$ , 考虑  $OM'$  的长, 一方面是  $x$ , 一方面是  $\sqrt{OK^2 + KM'^2}$ . 但

$$\overline{OK}^2 = x^2, \overline{KM'}^2 = \left(\frac{y}{q}\right)^2,$$

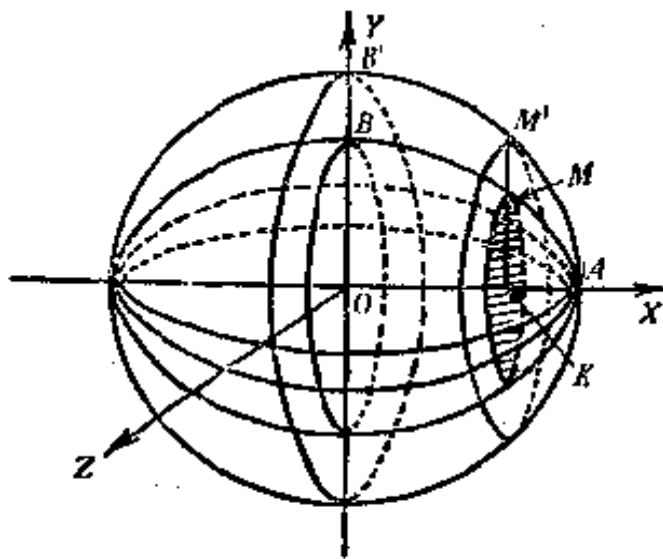


图 23.

一个圆，切椭圆体也得到一个圆，这二个圆的半径的比是  $KM : KM' = q$ ，所以二个圆面积的比是  $q^2$ 。而球的体积是  $\frac{4}{3}\pi x^3$ 。所以根据祖暅原理，旋转椭圆体的体积是

$$\frac{4}{3}\pi x^3 q^2 = \frac{4}{3}\pi ab^2.$$

## 九 面积的近似计算

以上介绍了一些求面积或体积的方法，只是对一部分比较简单而有规则的图形有效。应该说，对于大部分图形来说，不论分割的办法怎么巧妙，它们的面积或体积的确切数值是求不出来的，即使应用高等数学的工具也是这样。因之，我们要想办法求出它的近似值来。而在实际应用的时候，我们能够求得一定精确程度的近似值，也就足够了。

怎样来求得图形的面积或体积的近似值呢？这有很多办法，而且目前还在不断创造新的办法。这一节只介绍几种最

所以

$$a^2 = x^2 + \frac{y^2}{q^2},$$

但  $q = \frac{b}{a}$ ，代入，就得到上面这个方程。

以  $OX$  轴做轴，把椭圆旋转成旋转椭圆体（图23）。于是圆相应地旋转成球，垂直于  $OX$  轴作平面，切球得到一个圆，切椭圆体也得到一个圆，这二个圆的半径的比是  $KM : KM' = q$ ，所以二个圆面积的比是  $q^2$ 。而球的体积是  $\frac{4}{3}\pi x^3$ 。所以根据祖暅原理，旋转椭圆体的体积是

简单的求面积的近似值的办法。可以看出,这些办法的想法还是从刘徽割圆思想演化出来的。

(1) **矩形公式** 如果已知一根曲线  $y=f(x)$ ,  $a \leq x \leq b$ . 要求它和  $OX$  轴之间的面积(图 24), 把  $ab$   $n$  等分, 设分点是

$$(a=)x_0, x_1, \dots, x_n(=b).$$

设  $x_i$  和  $x_{i+1}$  之间的中点是  $\xi_i$ , 从  $\xi_i$  作垂直于  $OX$  轴的直线, 交曲线  $y=f(x)$  于  $\eta_i$ , 过  $\eta_i$  作平行于  $OX$  轴的直线, 于是我们得到  $n$  个矩形, 第  $i$  个矩形的面积是

$$\frac{b-a}{n} f(\xi_{i-1}).$$

于是作为要求的面积的近似值——由  $n$  个矩形所组成的图形的值——是

$$\frac{b-a}{n} [f(\xi_0) + f(\xi_1) + \dots + f(\xi_{n-1})].$$

当然  $n$  越大, 所求得的近似值越精确。

(2) **梯形公式** 在上一问题中, 我们可以用梯形来代替

矩形, 方法如下: 从线段  $ab$  的分点

$$(a=)x_0, x_1, \dots, x_n(=b)$$

作垂直线, 交曲线于  $n+1$  个点, 把相邻的点二二相联, 于是得到  $n$  个梯形(图 25); 其中第  $i$  个梯形的面积是

$$\frac{1}{2} \cdot \frac{b-a}{n} [f(x_{i-1}) + f(x_i)].$$



图 24.

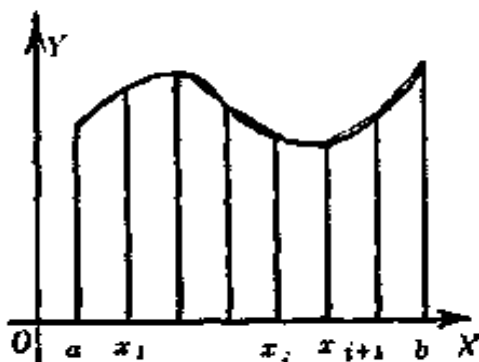


图 25.

于是,如果我们把这  $n$  个梯形面积的和作为要求的面积的近似值的话,那末它等于

$$\frac{b-a}{n} \left[ \frac{f(x_0) + f(x_n)}{2} + f(x_1) + \dots + f(x_{n-1}) \right].$$

如果在实际应用时,我们只知道曲线的形状而不知道曲线

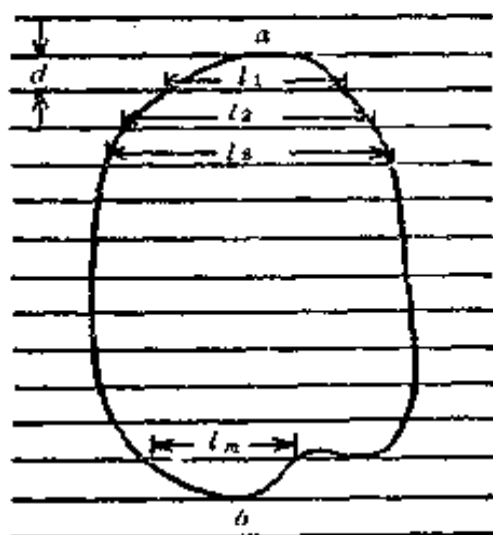


图 26.

线的方程,那末我们可以事先准备一张印有等距离  $d$  的平行线的透明纸,把纸蒙在图纸上,使透明纸的某二条线切于要求面积的图形的边界(图 26),这一批平行线被图形所截取的长度是

$$l_1, l_2, \dots, l_m.$$

于是我们把

$$d(l_1 + l_2 + \dots + l_m)$$

作为这个图形的近似面积,这是因为曲线所围的图形被  $m$  根平行线划分成  $m+1$  条,其中第一条的面积我们用三角形的面积

$$\frac{1}{2}d l_1$$

来近似它,最后一条的面积我们用三角形的面积

$$\frac{1}{2}d l_m$$

来近似它,其他的每一条用梯形的面积

$$\frac{1}{2}d(l_i + l_{i+1})$$

来近似它,把这些一齐加起来,就得到了由曲线所围的图形的近似面积,是:

$$d(l_1 + l_2 + \dots + l_m).$$

当然,  $d$  越小, 所得的近似面积越精确.

(3) 辛卜生公式 如果我们用

$$\frac{b-a}{6n} \{ [f(a) + f(b)] + 2[f(x_1) + f(x_2) + \dots + f(x_{n-1})] + 4[f(\xi_0) + \dots + f(\xi_{n-1})] \}$$

来作为图形 24 中曲线和  $OX$  轴之间的面积的近似值, 那末可以得到比前二种方法更精确的结果. 这个公式叫做辛卜生 (Simpson) 公式.

设从  $ab$  之间的分点  $x_i$  作  $OX$  轴的垂直线, 交曲线于  $p_i$ , 作以竖直方向做轴, 过  $p_i, \eta_i, p_{i+1}$  三点的抛物线 (图 27). 由这抛物线和  $p_i x_i, p_{i+1} x_{i+1}, x_i x_{i+1}$  所围成的图形的面积是

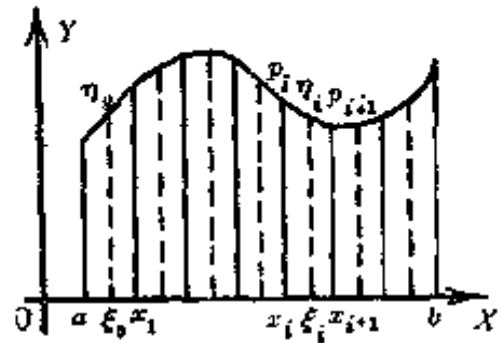


图 27.

$$\frac{b-a}{6n} [f(x_i) + 4f(\xi_i) + f(x_{i+1})].$$

以这个面积作为由曲线  $p_i p_{i+1}$  和直线  $p_i x_i, p_{i+1} x_{i+1}, x_i x_{i+1}$  所围成的图形的面积的近似值, 然后把这些面积一齐加起来就得到辛卜生公式.

这里我们只说明辛卜生公式, 而并未予以证明.

同样的, 在图 26 中, 我们可以用

$$\frac{1}{3} (l_{i-1} + 4l_i + l_{i+1}) d$$

来代表第  $i$  条和第  $i+1$  条加在一起的近似面积, 然后加起来, 可以求得整块近似面积.

(4) 方格法 已给一条闭曲线 (图 28), 用一张方格纸, 方格的边长是  $d$ , 放在曲线所围的图形上, 把格子点落在图形内

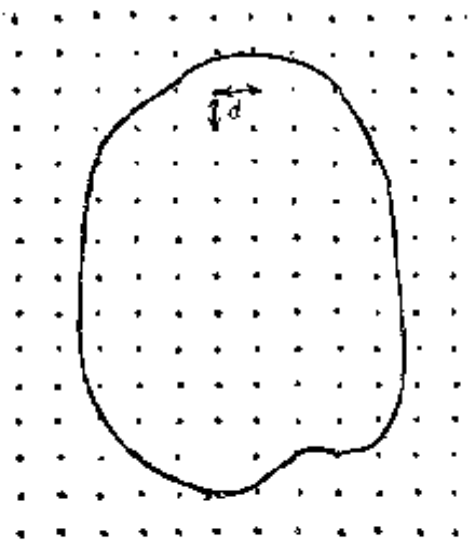


图 28.

的个数乘上  $d^2$ , 就可以作为面积的近似值.

当然求面积的近似值的方法是很多, 这里不再一一介绍了, 有兴趣的读者可以参看普通的微积分的书籍. 如果希望了解进一步的理论, 可以参看华罗庚、王元合著的《积分的近似计算》<sup>①</sup> 以及这一套丛书中间嗣鹤所著的《格点和面积》等优秀著作.

## 一〇 体积的近似计算

这一节, 我们要介绍几种求体积的近似值的方法. 要求体积的近似值的问题是很多, 如求水库容积, 估算矿藏储量等等. 这里介绍的几种方法, 都没有给出物体的方程, 而是通过直接计算得来的.

(1) 简易方法 例如我们要计算某一水库的容积. 一共测得水库  $n$  个点的深度  $h_1, h_2, \dots, h_n$ . 又测得水库的水平面的面积  $B$ . 那末它的容积  $V$  可以  $B$  乘以平均高度来计算, 就是

$$V = B \frac{h_1 + h_2 + \dots + h_n}{n}.$$

有时, 我们可以对上面这个公式作适当修正, 例如我们一共测

<sup>①</sup> 《积分的近似计算》, 华罗庚、王元合著, 科学出版社出版.

得  $n$  个点的深度(图 29), 其中  $k$  个点位于水庫边上, 設它們的深度是

$$h_1, h_2, \dots, h_k,$$

那末我們用

$$V = B \frac{\frac{1}{2}(h_1 + h_2 + \dots + h_k) + h_{k+1} + h_{k+2} + \dots + h_n}{\frac{1}{2}k + n - k}$$

$$= B \frac{h_1 + h_2 + \dots + h_k + 2(h_{k+1} + h_{k+2} + \dots + h_n)}{2n - k}$$

来計算容积。

这种修正是根据这样的想法, 認为水庫边上的点的影响范围只有中間的点的一半。



图 30.

在等高綫图上, 打上边长是  $d$  的方格, 利用等高綫图估計一下每一个方格中心的深度, 例如图 31 中有阴影的一格的深度是 2.8, 那末水庫的容积  $V$  可以用所有落在等高綫图中的方格的中



图 29.

(2) 方格法 假如沒有修水庫前, 我們有了一幅画有等高綫的地形图, 高程差是  $h$ , 地图上的一圈, 实际上便是一定高程的水平面(图 30).

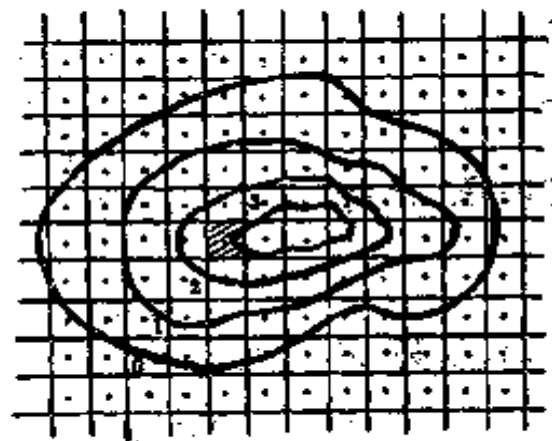


图 31.

点的深度的和乘以  $d^2$  来计算, 即

$$V = (h_1 + h_2 + \dots + h_n)d^2.$$

这里  $h_1, h_2, \dots, h_n$  是落在等高线图中各方格的中点的深度.

(3) 截锥公式 设有一高是  $H$ , 底面积是  $A$  的锥体, 那末, 锥体的体积是

$$\frac{1}{3}HA.$$

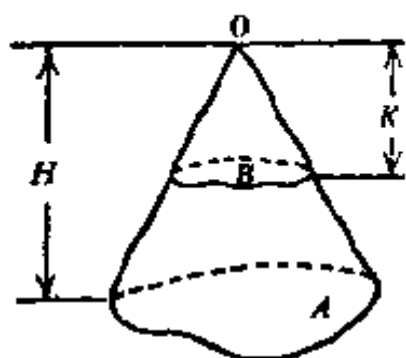


图 32.

平行于底跟顶点距离是  $K$  作一平面, 横截锥体, 得到面积  $B$  (图 32), 那末

$$K:H = \sqrt{B}:\sqrt{A}.$$

关于这二件事我们不在这里证明了.

用这个做基础, 如果  $A, B$  之间的距离是  $h$ , 即

$$H - K = h,$$

那末, 由  $B$  和  $A$  所隔成的截锥(圆台)的体积是

$$\frac{h}{3}(A + B + \sqrt{AB}).$$

这是因为

$$H = K + h,$$

$$K:K+h = \sqrt{B}:\sqrt{A},$$

所以

$$K\sqrt{A} = (K+h)\sqrt{B},$$

即

$$K = \frac{h\sqrt{B}}{\sqrt{A}-\sqrt{B}}.$$

而以  $K$  做高,  $B$  做底的锥体的体积是

$$\frac{1}{3} \frac{h\sqrt{B}}{\sqrt{A}-\sqrt{B}} \cdot B,$$

以  $H$  做高,  $A$  做底的锥体的体积是

$$\frac{1}{3} \left( \frac{h\sqrt{B}}{\sqrt{A}-\sqrt{B}} + h \right) \cdot A = \frac{h}{3} \frac{A\sqrt{A}}{\sqrt{A}-\sqrt{B}},$$



于是二者的差是

$$\frac{h(A\sqrt{A}-B\sqrt{B})}{3\sqrt{A}-\sqrt{B}} = \frac{h}{3}(A+B+\sqrt{AB}).$$

利用这个公式,我们来估计水库在相邻二等高线所表示的水位之间的容积,以  $A, B$  各表示上,下二等高线所包围的截面,它们的面积也记作  $A, B$  (图 33),二截面之间的高度差是  $h$ ,于是我们把由  $A, B$  所包的容积近似地看作一个截锥(圆台)的容积,那末根据上面那个公式,这应该等于



图 33.

$$\frac{h}{3}(A+B+\sqrt{AB}).$$

把算出来的容积一片一片地相加起来,就得到水库的容积的近似值. 设水库的等高线图的  $n+1$  条等高线所围成的截面依次是  $S_0, S_1, \dots, S_n$ , 其中  $S_n$  就是制高点  $O$ , 它们的面积也分别是  $S_0, S_1, \dots, S_n$ , 那末水库的容积的近似值是:

$$V_1 = h \left[ \frac{S_0 + S_n}{3} + \frac{2}{3}(S_1 + S_2 + \dots + S_{n-1}) + \frac{1}{3}(\sqrt{S_1 S_2} + \dots + \sqrt{S_{n-1} S_n}) \right],$$

这个公式叫做截锥公式.

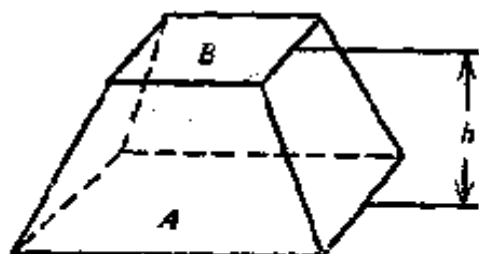


图 34.

(4) 梯形公式 设有一梯形(稜台)高是  $h$ , 上底的面积是  $B$ , 下底的面积是  $A$  (图 34), 那末这样的梯形(稜台)的近似体积是

$$\frac{h}{2}(A+B).$$

利用这个公式我們来估計水庫在相邻二等高綫所表示的水位之間的容积。如图 33, 以  $A, B$  各表示上, 下二等高綫所包围的截面, 它們之間的高度差是  $h$ , 于是我們把由  $A, B$  所包的容积近似地看作一个梯形 (稜台) 的容积, 那末根据上面那个公式, 这應該等于

$$\frac{h}{2}(A+B).$$

把算出来的容积一片一片地相加起来, 就得到水庫容积的近似值。設水庫的等高綫图的  $n+1$  条等高綫所围成的截面依次是  $S_0, S_1, \dots, S_n$ , 其中  $S_n$  就是制高点  $O$ , 它們的面积也分别是  $S_0, S_1, \dots, S_n$ , 那末水庫容积的近似值是:

$$V_2 = h \left( \frac{S_0 + S_n}{2} + S_1 + S_2 + \dots + S_{n-1} \right).$$

(5) 柏烏曼公式 如图 35,  $O$  是制高点,  $A, B$  是上下二等高綫所包围的截面。从制高点  $O$  出发, 作放射綫  $OP$ , 这射綫在等高綫图上  $A, B$  之間的长度是  $l$ 。另作一图 (图 36), 取一点  $O'$ , 和  $OP$  同方向, 作  $O'P'$ , 取  $O'P' = l$ , 当  $P$  沿  $A$  的周界走一圈时,  $P'$  也得一图形, 这图形的面积記作  $T(A, B)$ , 叫做柏烏曼 (Бауман) 改正数。

我們用

$$h \left[ \frac{1}{2} (A+B) - \frac{T(A, B)}{6} \right]$$

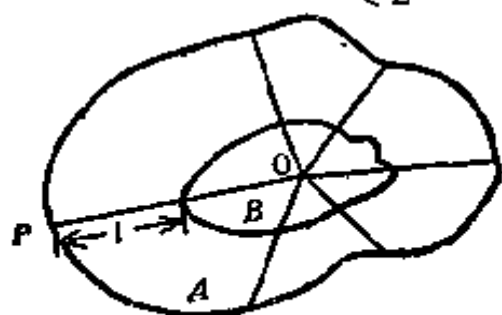


图 35.



图 36.

来替代(4)中的梯形(稜台)的体积,从而得到水庫容积的另一个近似值:

$$V = h \left\{ \left( \frac{S_0 + S_n}{2} + S_1 + \dots + S_{n-1} \right) - \frac{1}{6} [T(S_0, S_1) + \dots + T(S_{n-1}, S_n)] \right\},$$

这个公式叫做柏烏曼公式.

截錐公式,梯形公式和柏烏曼公式之間,有以下的关系:

$$V \leq V_1 \leq V_2.$$

当而且只当物体是截錐,这个錐体的頂点到底面  $A$  的垂直綫通过制高点  $O$  时,  $V = V_1$ ; 当而且只当上下二底的面积相等,即  $A = B$  时,  $V_1 = V_2$ .

这里我們不再給上面这些結果作出証明了,一般說来,柏烏曼公式比其他二个公式更精确些.

关于这方面的进一步的結果,請讀者參看华罗庚、王元合著的《积分的近似計算》一書.

## —— 結 束 語

这是一本通俗小册子,因之,很多地方并没有給出严格的数学証明,而只是依靠图形来直观地說明問題,例如:書中多次提到的“割之弥細,所失弥少,割之又割,以至于不可割,則与…相合体而无所失矣”. 在这本小册子中,只依靠图形的直观,在将来高等数学中要給予严格的証明. 又如我們分割的办法可以作一个近似图形比原来的图形小,也可以比原来的图形大,可以用这种办法来分割,也可以用那种办法来分割,怎样知道这些方法所得到的結果是一样的呢? 这里也并没有

給予严格的数学証明而只是依靠直观。此外,如什么叫做物体的体积和图形的面积,在将来都应该严格的定义。在这本小册子中所应用的极限过程,也沒有作严格的証明。至于最后二节的内容,其中更有很多沒有証明的地方,例如,怎样知道在这二节中举出的这些公式是近似公式?怎样来定出这些近似公式的誤差程度?等等。

我們之所以这样做,只是希望通过这本小册子中所举出的一些最简单的例子,来突出刘徽割圓的思想所給予我們的启发。这个思想實質上孕育着近代积分学的最基本的、最朴素的思想,而这是由萊布尼茲 (Leibniz, 1646-1716) 和牛頓 (Newton, 1642-1727) 所总结出来的。

在这本小册子中,我們只是应用刘徽割圓的思想討論了一些面积和体积的問題。事实上,这种想法不仅可以用来討論面积和体积的問題,而且还可以用来处理很多別的問題,例如在中学里我們学过的力学中的功,压力,距离等等以及其他的一些物理量,都可以应用这个思想来求得一些問題的答案。

当然我們不去把属于积分学范畴的一些結果在这里叙述,可是我希望讀者通过这本小册子,也許对将来学习高等数学有所裨益。

## 附 录

$1 + \frac{1}{2^2} + \frac{1}{3^2} + \dots + \frac{1}{n^2} + \dots = \frac{\pi^2}{6}$  的証明

在这个附录中, 我們来証明

$$1 + \frac{1}{2^2} + \frac{1}{3^2} + \dots + \frac{1}{n^2} + \dots = \frac{\pi^2}{6}.$$

証明分几步.

首先我們可以利用数学归纳法来証明棣美弗(De Moivre)公式:

$$(\cos \alpha + i \sin \alpha)^k = \cos k\alpha + i \sin k\alpha,$$

这里  $k$  是正整数,  $i = \sqrt{-1}$ . 这个証明在这里就不讲了.

把棣美弗公式展开, 取它的虚数部分, 就得:

$$\sin k\alpha = k \sin \alpha \cos^{k-1} \alpha - \frac{k(k-1)(k-2)}{6} \sin^3 \alpha \cos^{k-3} \alpha + \dots$$

而这就是

$$\sin k\alpha = \sin^k \alpha \left( k \operatorname{ctg}^{k-1} \alpha - \frac{k(k-1)(k-2)}{6} \operatorname{ctg}^{k-3} \alpha + \dots \right).$$

特別取  $k = 2n + 1$  和  $\alpha$  等于

$$\frac{\pi}{2n+1}, \frac{2\pi}{2n+1}, \dots, \frac{n\pi}{2n+1},$$

由于  $\sin(2n+1)\alpha = 0$ ,  $\sin \alpha \neq 0$ , 所以得到:

$$(2n+1) \operatorname{ctg}^{2n} \alpha - \frac{(2n+1)(2n)(2n-1)}{6} \operatorname{ctg}^{2n-2} \alpha + \dots = 0.$$

就是說  $\operatorname{ctg}^2 \frac{\pi}{2n+1}, \operatorname{ctg}^2 \frac{2\pi}{2n+1}, \dots, \operatorname{ctg}^2 \frac{n\pi}{2n+1}$

是方程式

$$(2n+1)x^n - \frac{(2n+1)(2n)(2n-1)}{6}x^{n-1} + \dots = 0$$

的根，由方程式的根和系数之间的关系，知道

$$\begin{aligned} & \cancel{\text{ctg}^2 \frac{x}{2n+1}} + \cancel{\text{ctg}^2 \frac{2x}{2n+1}} + \dots + \text{ctg}^2 \frac{nx}{2n+1} \\ &= \frac{(2n+1)(2n)(2n-1)}{6(2n+1)} = \frac{n(2n-1)}{3}. \end{aligned}$$

由于  $\text{cosec}^2 \alpha = \text{ctg}^2 \alpha + 1$ ,

所以由上式还得到：

$$\begin{aligned} & \text{cosec}^2 \frac{x}{2n+1} + \text{cosec}^2 \frac{2x}{2n+1} + \dots + \text{cosec}^2 \frac{nx}{2n+1} \\ &= \frac{n(2n-1)}{3} + n = \frac{n(2n+2)}{3}. \end{aligned}$$

利用第四节中的方法，我們可以証明：当  $\alpha < \frac{\pi}{2}$  时，

$$\text{tg} \alpha > \alpha > \sin \alpha,$$

而这就是  $\text{cosec} \alpha > \frac{1}{\alpha} > \text{ctg} \alpha$ .

应用前面所証明的二个等式，于是我們就有

$$\frac{n(2n-1)}{3} < \left(\frac{2n+1}{x}\right)^2 + \left(\frac{2n+1}{2x}\right)^2 + \dots + \left(\frac{2n+1}{nx}\right)^2 < \frac{n(2n+2)}{3},$$

而这就是

$$\begin{aligned} & \frac{x^2}{6} \left(1 - \frac{1}{2n+1}\right) \left(1 - \frac{2}{2n+1}\right) < 1 + \frac{1}{2^2} + \frac{1}{3^2} + \dots + \frac{1}{n^2} \\ & < \frac{x^2}{6} \left(1 - \frac{1}{2n+1}\right) \left(1 + \frac{1}{2n+1}\right), \end{aligned}$$

讓  $n \rightarrow \infty$ ，就得到

$$1 + \frac{1}{2^2} + \frac{1}{3^2} + \dots + \frac{1}{n^2} + \dots = \frac{\pi^2}{6}.$$

应用同样的方法，我們来考察方程式的第三項的系数，可以証明

$$1 + \frac{1}{2^4} + \frac{1}{3^4} + \dots + \frac{1}{n^4} + \dots = \frac{\pi^4}{90}.$$

同样的, 还可以证明

$$1 + \frac{1}{2^6} + \frac{1}{3^6} + \dots + \frac{1}{n^6} + \dots = \frac{\pi^6}{945},$$

$$1 + \frac{1}{2^8} + \frac{1}{3^8} + \dots + \frac{1}{n^8} + \dots = \frac{\pi^8}{9450},$$

$$1 + \frac{1}{2^{10}} + \frac{1}{3^{10}} + \dots + \frac{1}{n^{10}} + \dots = \frac{\pi^{10}}{93555},$$

$$1 + \frac{1}{2^{12}} + \frac{1}{3^{12}} + \dots + \frac{1}{n^{12}} + \dots = \frac{691\pi^{12}}{638512875},$$

.....